

# Explorando la Resta

## Aventuras Matemáticas para Niños



@TuPortalEducativo



<https://portaleducativo10.com>



t.me/TuPortalEducativo






Nombre: \_\_\_\_\_

Fecha:     /     /     

## Las Manzanas del Árbol

Sofía tiene 8 manzanas rojas en un árbol. Si 3 manzanas caen del árbol, ¿cuántas manzanas quedan en el árbol?



**Resolver**

## Los Juguetes en la Habitación

En su habitación, Lucas tiene 10 juguetes. Si guarda 4 juguetes en la caja, ¿cuántos juguetes quedan fuera?



**Resolver**




Nombre: \_\_\_\_\_

Fecha:     /     /

## Las Galletas en el Frasco

Hay 12 galletas en un frasco. Si Ana come 5 galletas, ¿cuántas galletas quedan en el frasco?



**Resolver**

## Las Flores del Jardín

En el jardín hay 15 flores. Si 6 flores se marchitan, ¿cuántas flores quedan en el jardín?



**Resolver**



Nombre: \_\_\_\_\_

Fecha:     /     /     \_\_\_\_\_

## Los Pájaros en el Árbol


Hay 9 pájaros en un árbol.  
Si 3 pájaros vuelan,  
¿cuántos pájaros quedan  
en el árbol?



**Resolver**

## Los Libros en la Mochila

Carla tiene 7 libros en su  
mochila. Si saca 2 libros,  
¿cuántos libros quedan en  
la mochila?



**Resolver**






Nombre: \_\_\_\_\_

Fecha:     /     /

## Los Caramelos en el Bolsillo

Pedro tiene 10 caramelos en su bolsillo. Si da 4 caramelos a su amigo, ¿cuántos caramelos le quedan?



**Resolver**

## Las Hojas del Árbol

Un árbol tiene 14 hojas. Si 5 hojas caen, ¿cuántas hojas quedan en el árbol?



**Resolver**



Nombre: \_\_\_\_\_

Fecha:     /     /

## Las Ruedas de Bicicletas


Hay 8 bicicletas estacionadas, cada una con 2 ruedas. Si 3 bicicletas se van, ¿cuántas ruedas quedan?



**Resolver**

## Los Pájaros en la Ventana

7 pájaros están posados en una ventana. Si 2 pájaros se van, ¿cuántos pájaros quedan?



**Resolver**





Nombre: \_\_\_\_\_

Fecha:     /     /

## Las Estrellas en el Cielo

Juan ve 11 estrellas en el cielo. Si se esconden 3 detrás de una nube, ¿cuántas estrellas quedan a la vista?



**Resolver**

## Las Mariposas en el Jardín

En el jardín hay 10 mariposas. Si 4 mariposas vuelan lejos, ¿cuántas mariposas quedan?



**Resolver**



Nombre: \_\_\_\_\_

Fecha:     /     /    

## Los Lápices en la Caja

En una caja hay 12 lápices.  
Si se rompen 3 lápices,  
¿cuántos lápices quedan  
en la caja?



**Resolver**

## Los Peces en el Acuario

Hay 9 peces en un acuario.  
Si 2 peces son trasladados  
a otro acuario, ¿cuántos  
peces quedan?



**Resolver**





Nombre: \_\_\_\_\_

Fecha:     /     /

## Las Naranjas en la Mesa

Sobre la mesa hay 8 naranjas. Si se utilizan 3 naranjas para hacer jugo, ¿cuántas naranjas quedan en la mesa?



**Resolver**

## Las Palomas en la Plaza

En la plaza hay 13 palomas. Si 5 palomas vuelan hacia el parque, ¿cuántas palomas quedan en la plaza?



**Resolver**




Nombre: \_\_\_\_\_

Fecha:     /     /     

## Las Sillas en la Habitación

En la habitación hay 10 sillas. Si se llevan 4 sillas a otra habitación, ¿cuántas sillas quedan?



**Resolver**

## Los Dulces en la Bolsa

En una bolsa hay 14 dulces. Si se comen 5 dulces, ¿cuántos dulces quedan en la bolsa?



**Resolver**






**Nombre:**

**Fecha:**     /     /

## Las Ovejas en el Campo


En un campo hay 16  
ovejas. Si 6 ovejas entran al  
establo, ¿cuántas ovejas  
quedan en el campo?



**Resolver**

## Las Tortugas en el Estanque

Hay 7 tortugas en un  
estanque. Si 2 tortugas  
salen a tomar el sol,  
¿cuántas tortugas quedan  
en el agua?



**Resolver**